

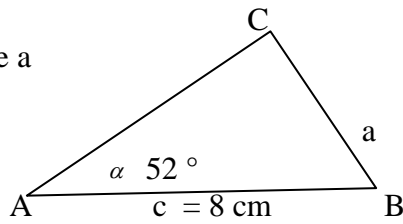
Übungsblatt

Markiere die für die Rechnung relevanten Seiten und Winkel farbige. Dann siehst Du , was man anwenden muss.

Aufgabe 1

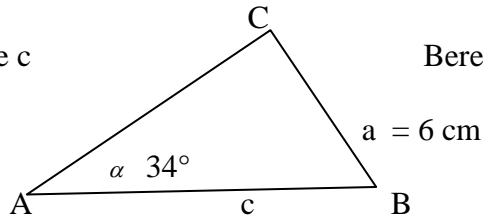
Berechne die Seite a

sin	cos	tan
G	A	G
H	H	A



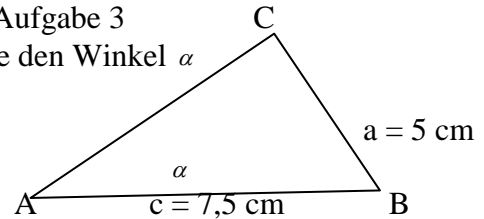
Aufgabe 2

Berechne die Seite c



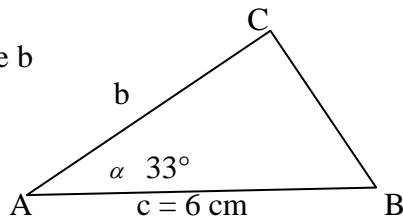
Aufgabe 3

Berechne den Winkel α



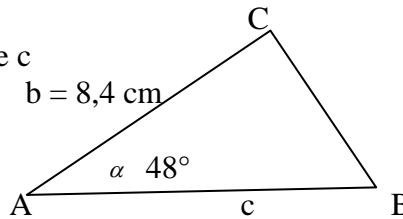
Aufgabe 4

Berechne die Seite b



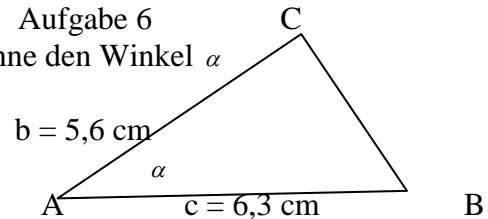
Aufgabe 5

Berechne die Seite c



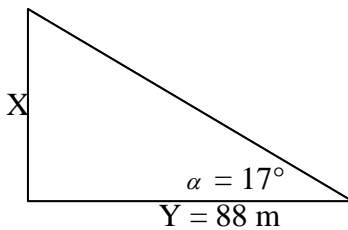
Aufgabe 6

Berechne den Winkel α



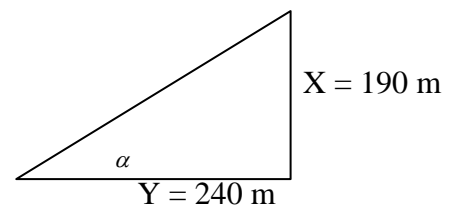
Aufgabe 7

Berechne die Seite x



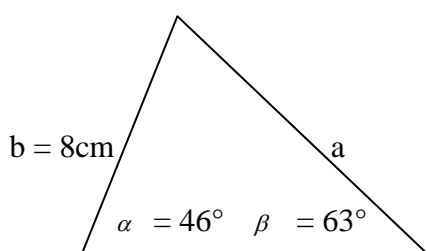
Aufgabe 8

Berechne den Winkel α



Aufgabe 9

Berechne die Seite a



Aufgabe 10

Berechne den Winkel α

